

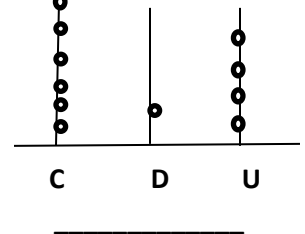
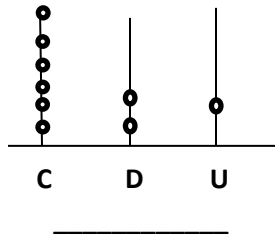
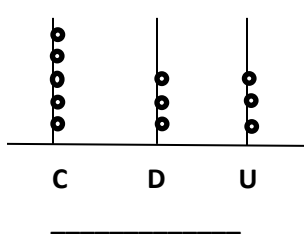
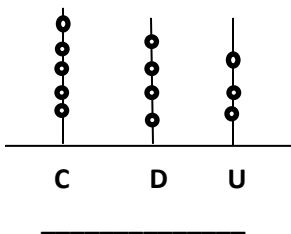
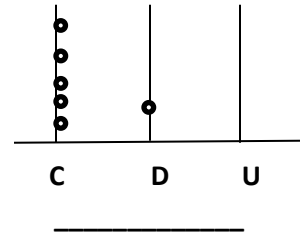
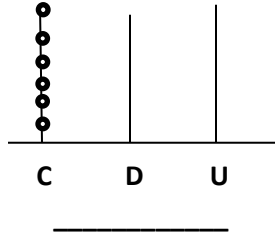
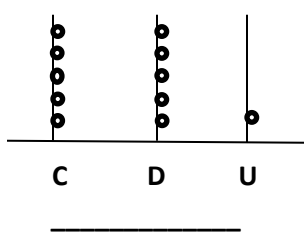
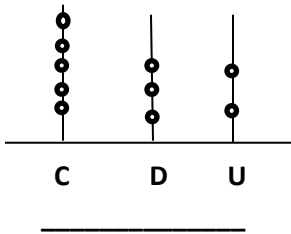


GUÍA N°2 DE MATEMÁTICA

NOMBRE: _____ FECHA: _____

OBJETIVO: Identificar y ordenar valores posicionales, escritura de números.

TRABAJO PERSONAL: Escribe los números que se representan en los ábacos



✓ Escribe el número que se obtiene:

$5C + 6D + 3U =$ _____

$8D + 2U + 5C =$ _____

$8U + 5C + 7D =$ _____

$5C + 4D + 1U =$ _____

$5C + 4U + 0D =$ _____

$6D + 9U + 5C =$ _____

✓ Escribe el número anterior y el siguiente o posterior:

_____ 509 _____

_____ 520 _____

_____ 581 _____

_____ 539 _____

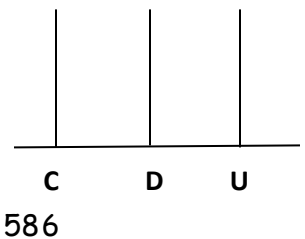
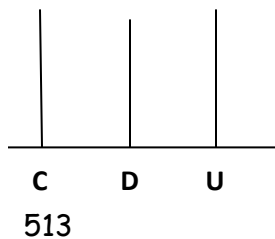
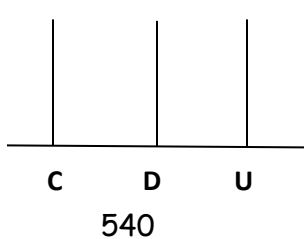
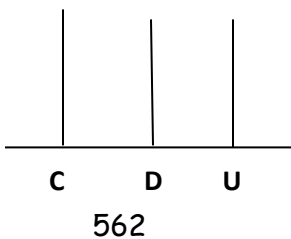
_____ 550 _____

_____ 565 _____

_____ 560 _____

_____ 599 _____

✓ Representa en el ábaco los siguientes números:



✓ Escribe el número que se indica:

Seiscientos nueve: _____

Seiscientos diecisiete: _____

Seiscientos dieciséis: _____

Seiscientos cincuenta y cinco: _____

Seiscientos cuarenta y tres: _____

Seiscientos noventa y dos: _____

Seiscientos treinta y cuatro: _____

Seiscientos quince: _____

Seiscientos veintiuno: _____

Seiscientos setenta y ocho: _____

Completo la siguiente tabla:

	701		703		705		707		709
710		712		714		716		718	
	721		723		725		727		729
730		732		734		736		738	
	741		743		745		747		749
750		752		754		756		758	
	761		763		765		767		769
770		772		774		776		778	
	781		783		785		787		789
790		792		794		796		798	

PRÁCTICA: Trabajo en mi cuaderno los ejercicios que correspondan:

✓ Relaciona cada número con su lectura:

- 734 Setecientos quince
- 797 Setecientos quince
- 743 • Setecientos quince
- 762 • Setecientos quince
- 715 • Setecientos quince
- 726 • Setecientos quince

✓ Escribe el número que está entre:

✓ Representa en el ábaco los siguientes números:

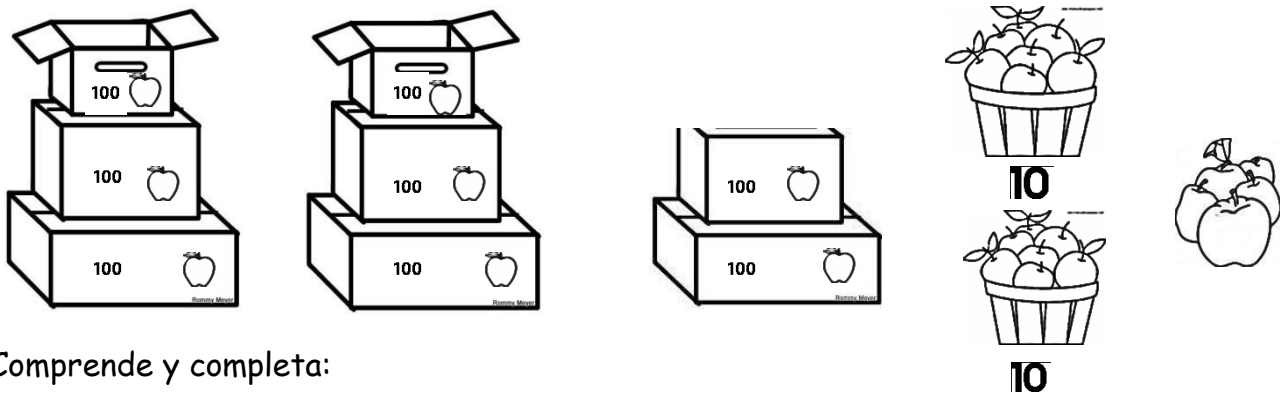
C	D	U	C	D	U	C	D	U	C	D	U
746			765			717			737		

✓ Escribe el número anterior y siguiente de:

_____ 707 _____ _____ 754 _____ _____ 762 _____ _____ 740 _____	_____ 736 _____ _____ 713 _____ _____ 769 _____ _____ 771 _____
--	--

TRABAJO PERSONAL: Reconoce

Este es el pedido de manzanas que hizo Laura



Comprende y completa:

¿Cuántas manzanas recibió Laura?

_____ Centenas + _____ Decenas + _____ Unidades = _____

Responde: Laura recibió _____