











Guía de Historia y Geografía.

Nombre Alumno (a)	
Curso: 4° básico	Fecha:

Objetivo: Ubicar en una cuadrícula, distinguir principales puntos y líneas de referencia en la Tierra, identificar y ubicar zonas climáticas y las características de sus paisajes y habitantes.

1.- Observa la cuadrícula y completas las coordenadas de ubicación.

	A	B	C	D	E	F	G	H	I
1									
2									
3									
4									
5									
6									
7									
8									
9									
10									

Dibuja con colores distintos en la cuadrícula las trayectorias de los siguientes animalitos.

a) Una chinita está en la posición 3,A, y avanzo un cuadro al este, dos cuadros hacia el sur, dos cuadros al este y un cuadro hacia el norte.

¿Adonde llegó la chinita? Marca el cuadro con una cruz

La casilla a la que llego la chinita es _____,_____.

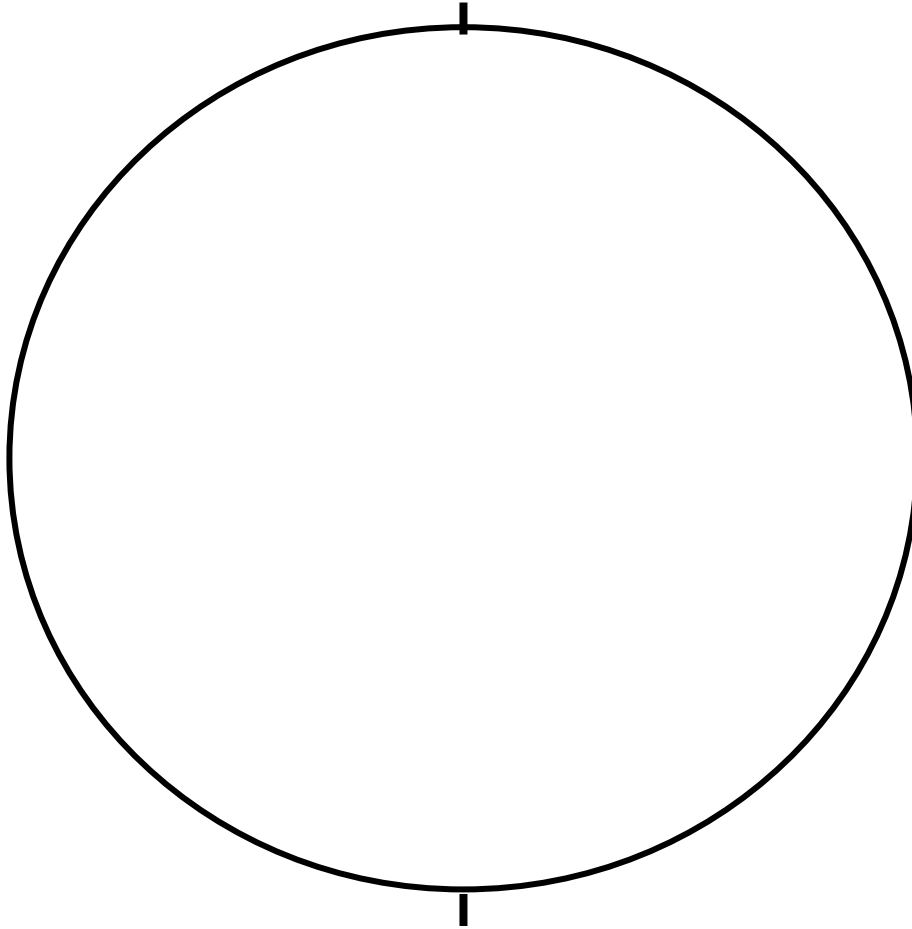
b) Una hormiguita está en la posición 9,E, y avanzo tres cuadro al norte, dos cuadros hacia el oeste, un cuadro hacia el sur y un cuadro hacia el oeste.



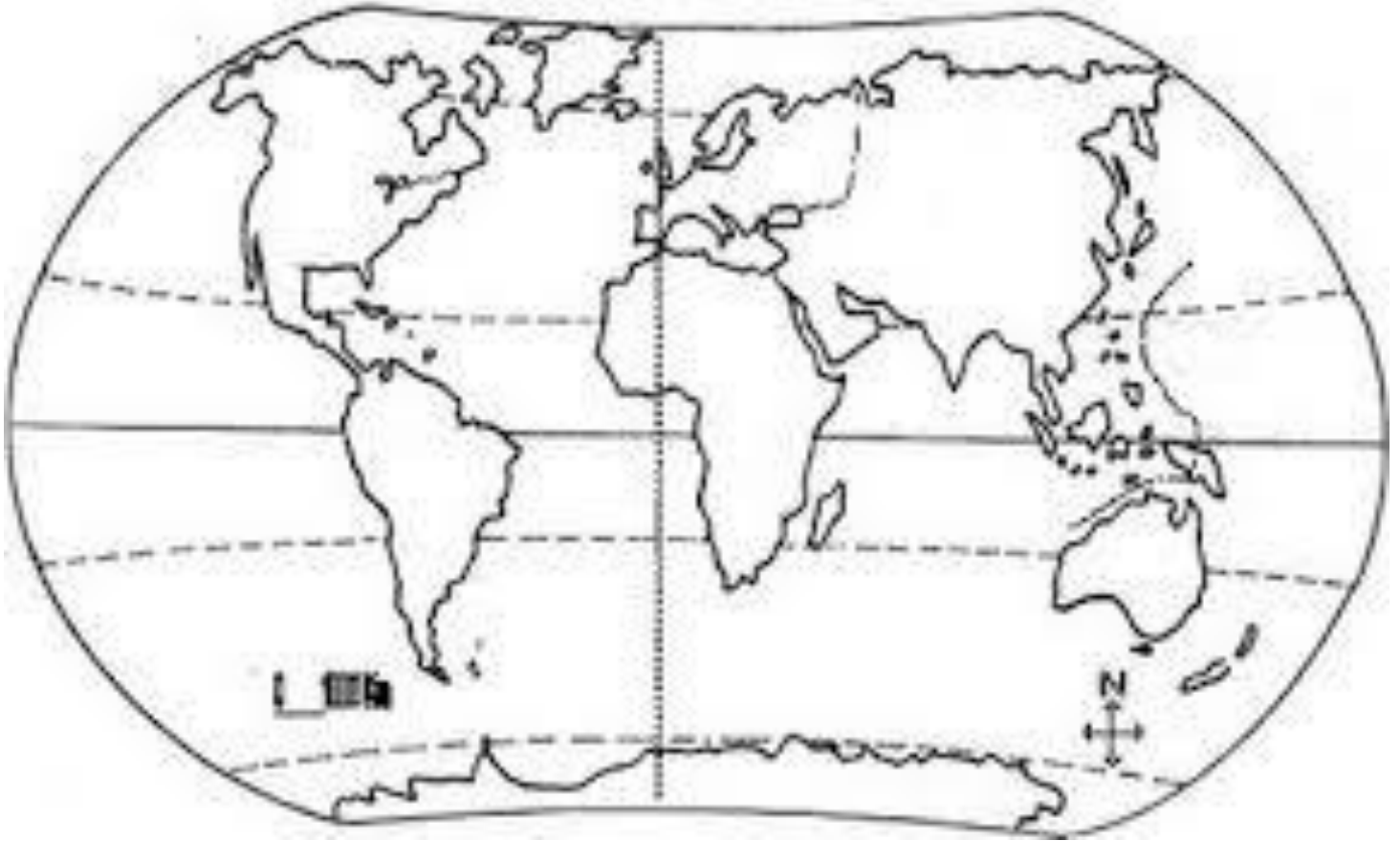
Profesora: Yasna Estay
Curso: 4 año básico

- c) ¿Adonde llegó la chinita? Marca el cuadro con una cruz
- d) La casilla a la que llegó la hormiguita es _____.

2.- Dibuja y coloca el nombre de lo siguiente: línea del ecuador, polos, hemisferios, círculos polares, trópicos, principal meridiano y pinta las zonas climáticas.



3.- Completa el Mapa con los nombres de los Océanos y Continentes.



3.- Encierra la alternativa correcta

<p>1.- ¿Por dónde sale el sol en nuestro país?</p> <p>a) norte b) sur c) este d) oeste</p>	<p>2.- ¿Con qué elemento de la naturaleza puedes tú orientarte para saber por dónde sale el Sol?</p> <p>a) el mar b) un río c) la cordillera d) un bosque</p>
<p>3.-¿En qué continente se ubica Chile?</p> <p>a) Asia b) Oceanía c) Europa d) América</p>	<p>4.-¿En qué hemisferio se ubica Chile?</p> <p>a) norte b) sur c) oriental d) occidental</p>

Contesta las preguntas en el espacio asignado.

<p>5.- ¿Qué son los mapas y para qué sirven?</p> <p>_____</p>	<p>6.-¿Elige un tipo de paisaje y descríbelo considerando el tipo de vegetación y fauna?</p> <p>_____</p>
---	---



Profesora: Yasna Estay
Curso: 4 año básico

<hr/> <hr/>	<hr/> <hr/>
-------------	-------------

Dibuja a una persona y el vestuario que utiliza en invierno y verano según las zonas climáticas en donde vive.

	Invierno y verano
Zona cálida	
Zona templada	
Zona fría	