



Ellen College Pudahuel
Historia, geografía y ciencias sociales
Unidad: 1
Guía N° 2
2° año básico
Profesora Valeria Vargas


LABERINTO CON PUNTOS CARDINALES.

Nombre del alumno: _____


OA 6: Leer y dibujar planos simples de su entorno, utilizando puntos de referencia, categorías de posición relativa y simbología pictórica.

Objetivo de clase: Determinar rumbos en un plano simple, mediante un sistema de coordenadas.


Siga las instrucciones para encontrar las figuras en el mapa.

1. Comienza en el **cuadrado**. 

- Desde el cuadrado, avanza 4 lugares al norte.
- Luego, avanza al Este 4 espacios.
- Avanza al Norte nuevamente por 3 espacios.
- Avanza a Oeste 3 espacios.
- Marca una X. ¿Dónde estás tú ahora?

2. Comienza en la **estrella**. 


- Desde la estrella, avanza al Oeste 3 espacios.
- Ahora avanza al Sur 2 espacios.
- Avanza al Este 2 espacios.
- Avanza al Norte 5 espacios.
- Marca una X. ¿Dónde estás tú ahora?

3. Comienza en el **círculo**. 

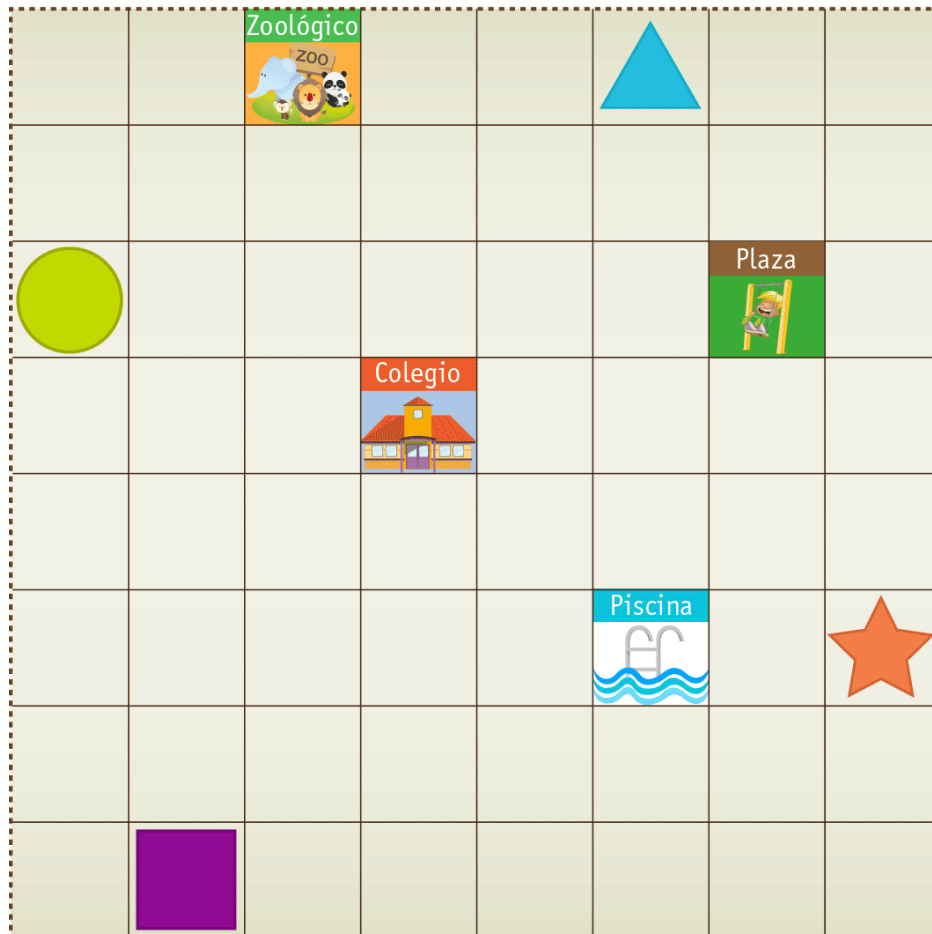
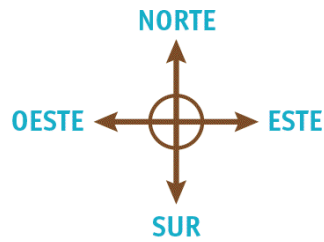
- Desde el círculo, avanza al Sur 5 espacios.
- Ahora avanza al Este 4 espacios.
- Avanza al Norte 2 espacios.
- Avanza al Este por 1 espacio.
- Marca una X. ¿Dónde estás tú ahora?



Ellen College Pudahuel
Historia, geografía y ciencias sociales
Unidad: 1
Guía N° 2
2° año básico
Profesora Valeria Vargas

4. Comienza en el **triángulo**. 

- Desde el triángulo avanza 5 espacios hacia el Sur
- Luego mueve 3 espacios hacia el Oeste.
- Ahora avanza 2 espacios al Norte.
- Avanza al Este 1 espacio.
- Marca una X. ¿Dónde estás tú ahora?





Ellen College Pudahuel
Historia, geografía y ciencias sociales
Unidad: 1
Guía N° 2
2° año básico
Profesora Valeria Vargas